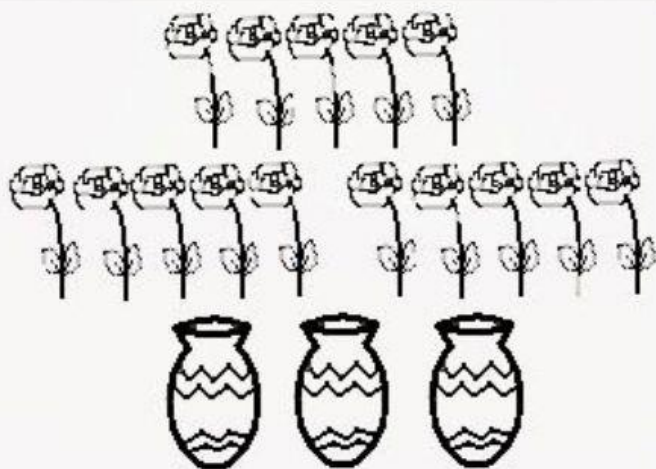



## La divisione

•Risolvi i seguenti problemi.




La signora Rosa deve disporre i suoi 15 fiori freschi dentro ai suoi 3 vasi preferiti; quanti fiori conterrà infine ciascun vaso?

$$\square : \square = \square$$



Giorgio deve mettere sui suoi 2 scaffali gli 8 libri che i parenti gli hanno regalato per Natale. Quanti libri potrà mettere Giorgio su ogni scaffale?

$$\square : \square = \square$$



Un cuoco divide 12 carote in 3 pentole diverse per fare alcune nuove ricette. Quante carote verranno usate per ogni ricetta?

$$\square : \square = \square$$



Un pittore ha a disposizione 10 pennelli da usare per completare i suoi 2 quadri. Quanti pennelli userà per ciascun quadro se per ogni quadro ha l'obbligo di usare lo stesso numero di pennelli?

$$\square : \square = \square$$

