







ATIVIDADE DE MATEMÁTICA

- ❖ OS ANIMAIS E AS PLANTAS SÃO ELEMENTOS VIVOS DO AMBIENTE.
- ❖ NO PARQUE ONDE SABRINA E A FAMÍLIA FIZERAM O PIQUINIQUE HAVIA ALGUNS ANIMAIS .

OBSERVE A MALHA QUADRICULADA E RESPONDA AS PERGUNTAS:

	1	2	3	4	5	6	7	8
A								
B								
C								
D								
E								

1º. ESCREVA A POSIÇÃO DE CADA ANIMAL. OBSERVE O EXEMPLO:

CACHORRO - 5C

PEIXE - _____

VACA - _____

JACARÉ - _____

GIRAFA - _____

GATO - _____

- ❖ SABRINA FEZ UMA PESQUISA COM OS COLEGUINHAS DA SUA TURMA PARA SABER OS ANIMAIS PREFERIDOS DELES.

VAMOS VER QUAL O ANIMAL PREFERIDO DA TURMA?

ANIMAL PREFERIDO – 2º ANO A		
ANIMAIS	NÚMERO DE VOTOS	
		TOTAL EM NÚMEROS
GIRAFA 		5
ELEFANTE 		4
LEÃO 		8
JACARÉ 		3

2º. OBSERVE A TABELA E RESPONDA:

A) QUAIS OS ANIMAIS QUE ESTÃO NA TABELA?

B) QUAL O ANIMAL PREFERIDO DA TURMA?

C) QUAL O ANIMAL MENOS VOTADO?

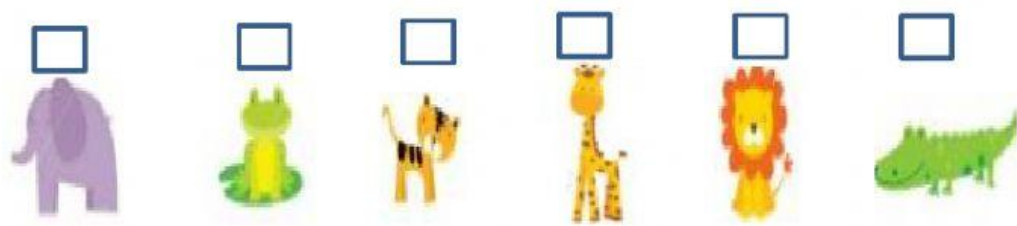

D) QUANTOS VOTOS A GIRAFA GANHOU A MAIS QUE O JACARÉ?

E) QUANTOS VOTOS O LEÃO E O ELEFANTE TEM JUNTOS?

F) DE ACORDO COM A QUANTIDADE DE VOTOS QUE CADA ANIMAL GANHOU.FAÇA UMA LISTA DO **MAIS VOTADO PARA O MENOS VOTADO.**

1) _____
 2) _____
 3) _____
 4) _____
 5) _____

- ❖ A ARCA DE NOÉ.
- ❖ VOCÊ CONHECE A HISTÓRIA DA ARCA DE NOÉ? DEUS MANDOU QUE ELE LEVASSE UM PAR DE CADA ANIMAL PARA UMA ARCA: UMA FÊMEA E UM MACHO. ENCONTRE OS PARES DE ANIMAIS E LIGUE:



TEM ALGUM ANIMAL SEM PAR? _____

O NÚMERO 1 É IMPAR PORQUE NÃO FORMA PAR.

- ❖ OS PEIXES SÃO SERES VIVOS, ANIMAIS AQUATICOS, PARA QUE ELES SOBREVIVAM É IMPORTANTE NÃO POLUIR OS RIOS.

3º. RESOLVA AS OPERAÇÕES.

$3 + 1$ <input type="checkbox"/>	<table border="1"> <tr><td>○</td><td>○</td></tr> <tr><td>○</td><td>○</td></tr> <tr><td>○</td><td>○</td></tr> <tr><td>○</td><td>○</td></tr> </table>	○	○	○	○	○	○	○	○	<input type="checkbox"/>	$4 + 1$
○		○									
○		○									
○		○									
○	○										
$1 + 2$ <input type="checkbox"/>	<input type="checkbox"/>	$2 + 2$									
$1 + 1$ <input type="checkbox"/>	<input type="checkbox"/>	$5 - 2$									
$1 + 4$ <input type="checkbox"/>	<input type="checkbox"/>	$4 - 2$									