

Hari: .....

Tarikh: .....

## UNIT II

# Buruj


Halaman Buku Teks: 177 – 188

### Apakah Buruj?


### Buruj di Langit Malam

- A** Nyatakan maksud buruj dan namakan buruj di bawah dengan betul. **SP 11.1.1** **SP 11.1.2** **TP 1** **TP 2**

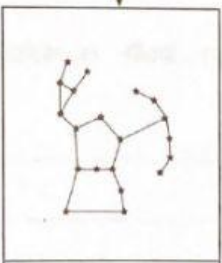
Buruj			
<hr/>			
<hr/>			
<hr/>			



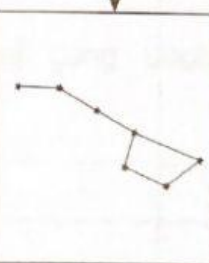
1.



2.



3.



4.

**SP 11.1.1** Menyatakan buruj ialah gugusan bintang yang kelihatan membentuk sesuatu corak tertentu

**SP 11.1.2** Mengenal pasti bentuk buruj seperti Belantik, Biduk, Pari dan Skorpio

**TP 1** Menyatakan maksud buruj

**TP 2** Mengenal pasti buruj

Tandatangan Guru:

89

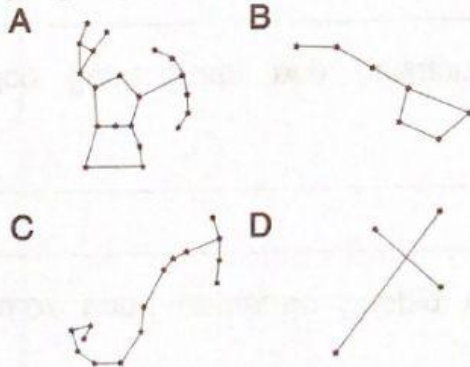
# Praktis UPSR 11

## UNIT 11

1. Apakah yang dimaksudkan dengan buruj?

- A Gugusan Bulan yang membentuk cahaya pada waktu malam
- B Gugusan bintang yang membentuk corak di langit pada waktu malam
- C Gugusan bintang yang bercahaya yang kelihatan pada waktu siang
- D Gugusan bintang yang bercahaya yang kelihatan pada waktu malam

2. Buruj yang manakah mempunyai bentuk seperti kala jengking?



3. Antara berikut, buruj yang manakah boleh dilihat di hemisfera utara dan selatan?

- A Belantik
- B Pari
- C Skorpio
- D Biduk

4. Rajah 1 menunjukkan seorang petani sedang menanam padi.



Rajah 1

Antara berikut, buruj yang manakah akan menunjukkan masa untuk menuai bagi petani tersebut?

- A Biduk
- B Belantik
- C Pari
- D Skorpio