











## Masa dan Waktu 3

Nama murid: \_\_\_\_\_

Pilih masa yang betul berdasarkan jam yang ditunjukkan.

|  |   |
|--|---|
| ①<br><br>8:00<br>8:15   | ②<br><br>5:30<br>5:00     |
| ③<br><br>4:45<br>4:15   | ④<br><br>7:15<br>7:30     |
| ⑤<br><br>2:15<br>2:30 | ⑥<br><br>7:30<br>7:45   |
| ⑦<br><br>9:00<br>9:45 | ⑧<br><br>10:00<br>10:30 |
| ⑨<br><br>2:30<br>2:15 | ⑩<br><br>5:15<br>5:45   |