

# MATEMÁTICA

## NÚMEROS PARES E NÚMEROS ÍMPARES



Os números **pares** são aqueles que terminam em 0, 2, 4, 6 e 8.

Os números **ímpares** são aqueles que terminam em 1, 3, 5, 7 e 9.



### ATIVIDADES

1) CONTE OS DEDOS, ESCREVA O RESULTADO E MARQUE SE É PAR OU ÍMPAR:



RESULTADO: \_\_\_\_\_  
PAR  OU  ÍMPAR





RESULTADO: \_\_\_\_\_  
PAR  OU  ÍMPAR





RESULTADO: \_\_\_\_\_  
PAR  OU  ÍMPAR





RESULTADO: \_\_\_\_\_  
PAR  OU  ÍMPAR



RESULTADO: \_\_\_\_\_  
PAR  OU  ÍMPAR



RESULTADO: \_\_\_\_\_  
PAR  OU  ÍMPAR



RESULTADO: \_\_\_\_\_  
PAR  OU  ÍMPAR

