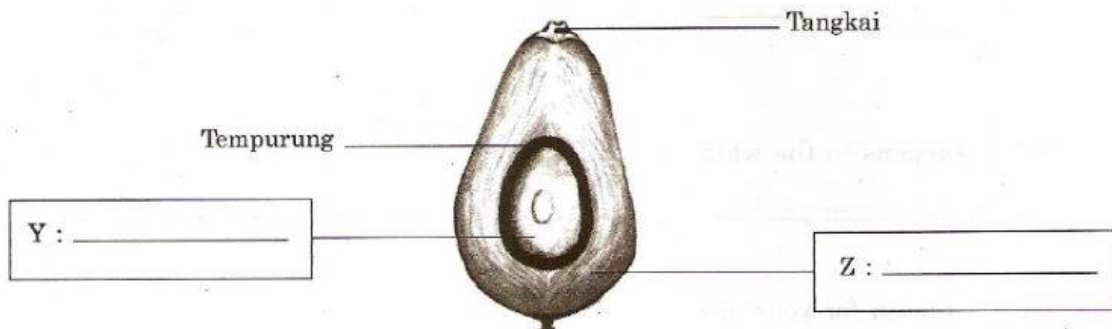


LATIHAN PENGUKUHAN SUB TOPIK 5.5 (TP1, TP2)

1 Rajah di bawah menunjukkan keratan rentas buah kelapa sawit.



(a) Labelkan bahagian Y dan Z dalam Rajah di atas.

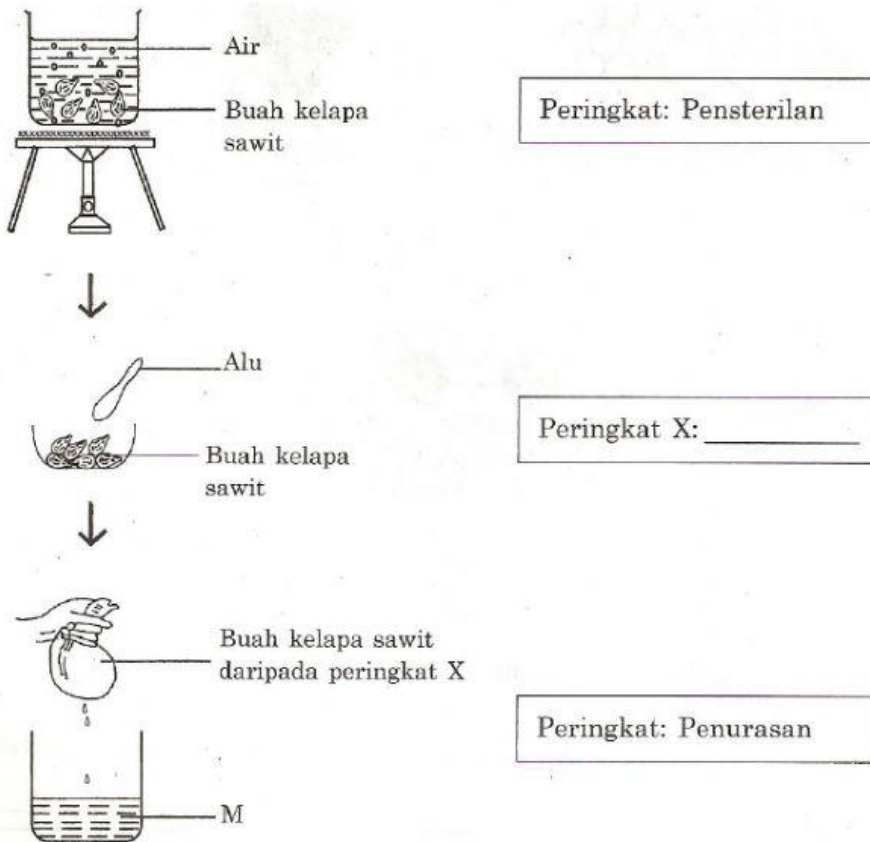
(b) Bahagian manakah pada buah kelapa sawit yang menghasilkan paling banyak minyak?

.....

(c) Namakan proses untuk menghasilkan minyak kelapa sawit daripada buahnya.

.....

2 Rajah menunjukkan proses pengekstrakan sejenis minyak di dalam makmal.



(a) Pada Rajah di atas, namakan peringkat X.

(b) Di peringkat manakah mikroorganisma pada buah kelapa sawit dimusnahkan?

.....

(c) Dalam penghasilan minyak itu secara industri, namakan peringkat selepas peringkat penurasan.

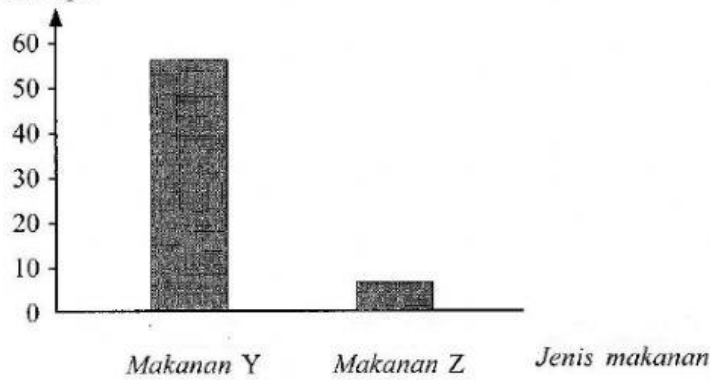
.....

(d) (i) Apakah M?

.....

3 Rajah menunjukkan peratus lemak tepu yang berasal daripada haiwan dan tumbuhan.

Peratus lemak tepu



(a) Berdasarkan Rajah,

(i) makanan manakah yang berasal daripada haiwan?

.....

(ii) makanan manakah yang baik untuk kesihatan?

.....