



Estudante: \_\_\_\_\_ 1º Ano \_\_\_\_\_




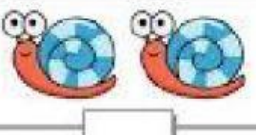
Professora: \_\_\_\_\_ Dia: \_\_\_\_\_ Mês: \_\_\_\_\_ Ano: \_\_\_\_\_

### Aula Interativa de Informática - 1

1. Clique na escrita por extenso dos respectivos numerais.

	UM DOIS TRÊS
	DEZ VINTE UM
	UM DOIS TRÊS
	UM DOIS CINCO
	DEZ QUATRO CINCO
	QUATRO DOIS CINCO
	NOVE SEIS OITO
	SEIS SETE CINCO

2. Observe e resolva as adições digitando os valores no quadrinhos.

 □	+	 □	=	□
 □	+	 □	=	□