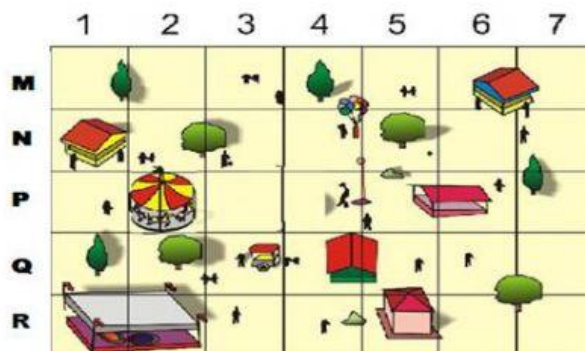


# plano cartesiano

Assista ao vídeo e responda as questões marcando a resposta com um (X)

1. Observe o parque de diversões representado abaixo: Assinale a alternativa que mostra a localização do carrossel.




(A) N3.

(B) P3.

(C) N2.

(D) P2

2. (SAERJ). Veja abaixo o tabuleiro de um jogo.



O símbolo que está entre ☀ e ⚙ é

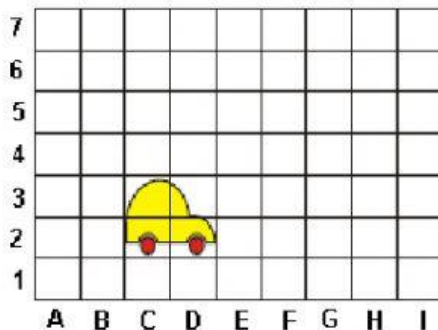
A) ♥

B) ♔

C) ♣

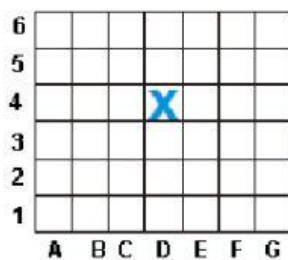
D) ▼

3. (Saresp 2007). Observe a figura abaixo. Em qual posição está a roda da frente do carro?



- (A) C1
- (B) D3
- (C) C3
- (D) D2

4. (Saresp 2007). O barco na figura ao lado está localizado na posição X.



Que posição é esta?



- (A) D4
- (B) D5
- (C) E4
- (D) E5

5. Na imagem a seguir a localização de cada figura é identificada por um número e uma letra.

U				
V		▲		
W			✦	
X	■			
	1	2	3	4

De acordo com a imagem, o triângulo está localizado em

- A) 1, X
- B) 2, V
- C) 3, W
- D) 3, X