

### Atividade de Matemática

1º. TONI TEM UMA COLEÇÃO DE BOLINHAS DE GUDE.




RESPONDA AS QUESTÕES:


A) QUANTAS SÃO AS BOLINHAS DE GUDE PRETAS?


B) QUANTAS SÃO AS BOLINHAS DE GUDE AZUIS?


C) O QUE HÁ MAIS: BOLINHAS DE GUDE PRETAS OU AZUIS?

2º. OBSERVE A SEQUÊNCIA DE ANIMAIS E RESPONDA: QUAL O PRÓXIMO ANIMAL DA SEQUENCIA?

A) ( ) 

B) ( ) 

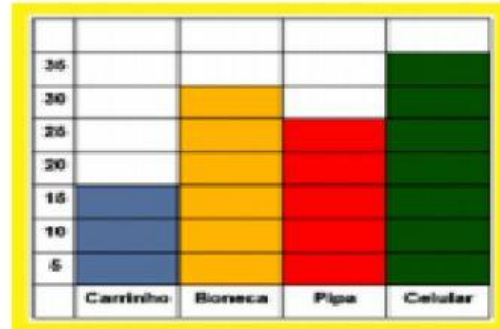
C) ( ) 

D) ( ) 



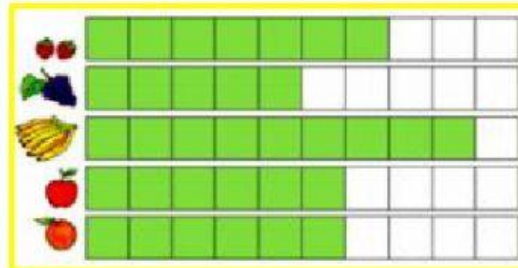
3º. OBSERVE O GRÁFICO SOBRE A BRINCADEIRA MAIS PREFERIDA PELAS CRIANÇAS E DEPOIS MARQUE QUAL É O BRINQUEDO QUE AS CRIANÇAS MAIS GOSTAM DE BRINCAR.

- A) ( ) BONECA
- B) ( ) CARRINHO
- C) ( ) CELULAR
- D) ( ) NENHUMA CHANCE



4º. CADA QUADRADINHO DO GRÁFICO ABAIXO VALE 10 VOTOS. ENTÃO RESPONDA: QUANTOS VOTOS TEVE A UVA?

- A) ( ) 50 VOTOS
- B) ( ) 60 VOTOS
- C) ( ) 30 VOTOS
- D) ( ) 40 VOTOS



5º. NA IMAGEM ABAIXO, PODEMOS OBSERVAR ALGUMAS MAÇÃS DENTRO DO CESTO E ALGUMAS ESTÃO FORA DO CESTO.

QUANTAS MAÇÃS ESTÃO FORA DO CESTO ?

- A) ( ) 2 MAÇÃS
- B) ( ) 3 MAÇÃS
- C) ( ) 7 MAÇÃS
- D) ( ) 15 MAÇÃS



6º. SANDRA E BETINHO ADORAM BRINCAR. ELES ESPALHAM TODOS OS SEUS BRINQUEDOS NO QUARTO. OBSERVE A IMAGEM E RESPONDA:

QUAL BRINQUEDO ESTÁ **ATRÁS** DE BETINHO?

- A) ( ) BOLA
- B) ( ) CASA
- C) ( ) COELHO
- D) ( ) URSO



7º. RESOLVA DO SEU JEITO:

