



PENILAIAN AKHIR TAHUN (PAT)  
**MADRASAH IBTIDAIYAH AN-NOOR**  
KARANGASRI NGAWI




Jalan Sukowati no. 40 Karangasri Ngawi Email : misannoorkarangasri0012@gmail.com

**SOAL MATEMATIKA KELAS 1**

Berilah tanda silang ( x ) pada huruf A, B atau C jawaban yang benar !

1.



Banyak bebek pada gambar di samping adalah ...

- A. 60
- B. 40
- C. 50

2.



Bilangan yang tepat untuk mengisi titik – titik dalam kotak di atas adadalah ... .

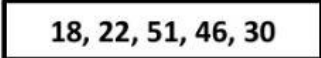
- A. 52 dan 53
- B. 53 dan 55
- C. 55 dan 57

3.

Pada bilangan **82**, angka **2** menempati nilai tempat ... .

- A. puluhan
- B. ratusan
- C. satuan

4.



Urutan bilangan di samping dari yang **terbesar** adalah ... .

- A. 18, 22, 46, 30, 51
- B. 51, 46, 30, 22, 18
- C. 30, 46, 22, 18, 51

5.



Perbandingan yang tepat untuk dua bilangan di atas adalah ... .

- A. kurang dari
- B. lebih dari
- C. sama dengan

6.  $32 + 14 = \dots$

- A. 46
- B. 56
- C. 66

7. Doni menyimpan 45 butir kelereng.

Hari ini Doni menambahkan 34 butir kelereng.

Jumlah kelereng Doni sekarang ada ... butir.

- A. 79
- B. 89
- C. 78

8.  $68 - 23 = \dots$

- A. 44
- B. 54
- C. 45

9. Bibi memetik 37 buah tomat.

Sebanyak 21 buah dijual ke tukang sayur.

Sisa tomat Bibi sekarang ... buah.

- A. 17
- B. 15
- C. 16


10.  $34 + 24 = \dots$

- A. 48
- B. 58
- C. 68

11. Pola pengubinan yang sering digunakan dalam pemasangan lantai rumah adalah pola ...

- A. persegi
- B. lingkaran
- C. segitiga

12.



Berat boneka sama dengan ...

- A. 20
- B. 15

13. Berikut yang termasuk satuan tidak baku adalah ... .
- A. jengkal
  - B. sentimeter
  - C. kilometer
14. Satuan tidak baku untuk mengukur suhu adalah ... .
- A. panjang – pendek
  - B. lama – sebentar
  - C. panas – dingin
15. Berikut yang merupakan kegiatan yang memerlukan waktu banyak adalah ... .
- A. cuci tangan
  - B. tidur
  - C. minum