

**4 bambini e 2 bambine fanno il bagno.  
Quanti bambini in tutto?**




- LEGGI ATTENTAMENTE IL TESTO
- TROVA GLI ELEMENTI DI CUI SI PARLA E CHE VANNO CONTATI
- TROVA COSA NON SAI E METTI IL PUNTO INTERROGATIVO NEL MATTONCINO GIUSTO
- INSERISCI NEGLI ALTRI DUE MATTONI I DATI CHE CONOSCI
- SCEGLI L'OPERAZIONE CHE DEVI FARE E CALCOLA

BAMBINI IN TUTTO	
MASCHI	FEMMINE

OPERAZIONE:

9 bambini in una stanza.  
4 bambini hanno gli occhiali.  
Quanti bambini non hanno gli occhiali?




- LEGGI ATTENTAMENTE IL TESTO
- TROVA GLI ELEMENTI DI CUI SI PARLA E CHE VANNO CONTATI
- TROVA COSA NON SAI E METTI IL PUNTO INTERROGATIVO NEL MATTONCINO GIUSTO
- INSERISCI NEGLI ALTRI DUE MATTONI I DATI CHE CONOSCI
- SCEGLI L'OPERAZIONE CHE DEVI FARE E CALCOLA

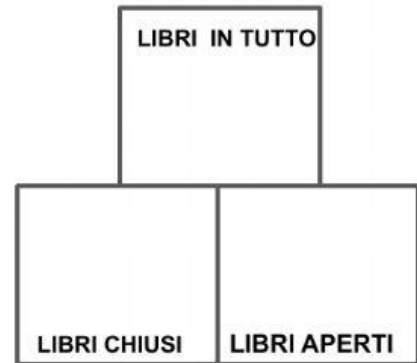


OPERAZIONE:

**3 libri chiusi, 2 libri aperti.  
Quanti libri in tutto?**



- LEGGI ATTENTAMENTE IL TESTO
- TROVA GLI ELEMENTI DI CUI SI PARLA E CHE VANNO CONTATI
- TROVA COSA NON SAI E METTI IL PUNTO INTERROGATIVO NEL MATTONCINO GIUSTO
- INSERISCI NEGLI ALTRI DUE MATTONI I DATI CHE CONOSCI
- SCEGLI L'OPERAZIONE CHE DEVI FARE E CALCOLA



OPERAZIONE:

**Abbiamo 8 dolci. 4 dolci sono al cioccolato, gli altri alla panna.**

**Quanti sono i dolci alla panna?**



DOLCI IN TUTTO

- TROVA GLI ELEMENTI DI CUI SI PARLA E CHE VANNO CONTATI
- TROVA COSA NON SAI E METTI IL PUNTO INTERROGATIVO NEL MATTONCINO GIUSTO
- INSERISCI NEGLI ALTRI DUE MATTONI I DATI CHE CONOSCI
- SCEGLI L'OPERAZIONE CHE DEVI FARE E CALCOLA



OPERAZIONE: