



ESCOLA MUNICIPAL PROFESSORA BELISARINA GALDINO DE OLIVEIRA

Escreva o nome da sua professora: _____

Escreva seu nome: _____

1º Ano Turma: _____

SIMULADO DE MATEMÁTICA

CRIANÇAS,




Clique na caixinha de som para ouvir as instruções para realizar este simulado.








1 – Marque com um X o relógio que está marcando a hora que você inicia suas aulas na escola:



2 - Qual é o nome destas figuras geométricas:



3 – Observe bem as dezenas e arraste aos resultados corretos:



4 - Arraste o número ao seu nome por extenso:



NOVE

QUARENTA E
DOIS

DEZOITO

TRINTA E UM

VINTE E
QUATRO

4 – Ligue as adições aos resultados corretos:

$5 + 5$

15

$7 + 2$

9

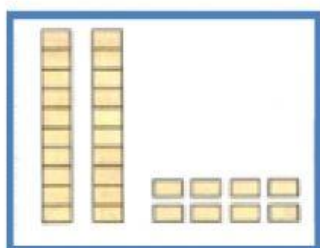
$5 + 3$

10

$10 + 5$

8

6 – Marque x na resposta correta, observando o número formado pelo material dourado:



() 26

() 28

() 24

() 22

7 – Resolva as adições:

	2	1
+	2	4

	3	5
+	1	4

	5	3
+	2	4



8 – Vamos fazer um ditado de números? Ouça o áudio, clicando na caixinha de som na primeira fileira e escreva o número que foi falado na segunda fileira, veja o primeiro como exemplo:



21

9 – Observe o calendário para selecionar a resposta certa:

2021 MAIO						
DOM	SEG	TER	QUA	QUI	SEX	SAB
						1
2	3	4	5	6	7	8
9	10	11	12	13	14	15
16	17	18	19	20	21	22
23	24	25	26	27	28	29
30	31					

O dia 2 de maio foi qual

DIA DA SEMANA?

A - segunda-feira

B - sábado

C - domingo

D - terça-feira

10 – O mês de maio tem quantos SÁBADOS

A - 4

B - 5

C - 3

D - 2



Parabéns! Você terminou o SIMULADO DE MATEMÁTICA!