



SDLB TUNARUNGU PANGUDI LUHUR

Jl. Pesanggrahan 125, Kembangan,
Jakarta Barat 11610, Telp. (021) 5804223

PENILAIAN AKHIR TAHUN SEMESTER 2 TAHUN PELAJARAN 2020 – 2021

Mata Pelajaran : Pendidikan Agama Katolik
Hari, Tanggal : Rabu, 2 Juni 2021

Kelas>Nama : D1A/
Waktu : 09.40 – 11.10


NILAI	TTD GURU	TTD ORTU

Petunjuk pengerjaan soal:

- Kliklah huruf A, B, atau C di depan pilihan jawaban yang paling tepat untuk soal pilihan ganda!
- Isilah titik – titik dengan jawaban yang benar untuk soal isian!
- Kerjakan soal sesuai perintahnya untuk soal uraian!

KD 3.4 Mengenal Allah sebagai pencipta yang Maha Baik.

1. Gambar berikut yang diciptakan Allah pada hari keempat adalah



2. Sebelum Allah menciptakan alam semesta keadaan bumi masih

A. kosong dan gelap B. kosong dan besar C. gelap dan indah

3. Allah menamai cakrawala itu

A. sungai B. laut C. langit

4. Pada awal menciptakan manusia, Tuhan memberi ... agar manusia hidup.

A. akal budi B. hati nurani C. nafas kehidupan

5. Manusia perempuan pertama yang menjadi teman Adam adalah

A. Ana B. Hawa C. Hana









6. Manusia adalah ciptaan Allah yang istimewa, karena diciptakan menurut

A. gambar dan rupa Allah B. tangan Allah C. hati Allah

7. Gambar berikut yang menunjukkan manusia merawat alam semesta yaitu



8. Pada hari ketujuh Allah
9. Manusia diciptakan Tuhan pada hari ke-
10. Manusia pertama diberi nama
11. Manusia pertama ditempatkan Allah di
12. Manusia pertama diciptakan Allah dari
13. Allah memberi kuasa kepada manusia untuk ... alam semesta.
14. Hawa diciptakan dari ... Adam.
15. **Pasangkan gambar ciptaan Allah berikut dengan urutan harinya! (poin 6)**

	<div style="border: 1px solid black; padding: 10px; margin: 5px;"> <p>Hari kelima</p> </div>	
	<div style="border: 1px solid black; padding: 10px; margin: 5px;"> <p>Hari pertama</p> </div>	
	<div style="border: 1px solid black; padding: 10px; margin: 5px;"> <p>Hari keempat</p> </div>	
<div style="border: 1px solid black; padding: 10px; margin: 5px;"> <div style="background-color: black; color: white; padding: 5px; text-align: center;">GELAP</div> <div style="border: 1px solid black; padding: 5px; text-align: center;">TERANG</div> </div>	<div style="border: 1px solid black; padding: 10px; margin: 5px;"> <p>Hari keenam</p> </div>	
	<div style="border: 1px solid black; padding: 10px; margin: 5px;"> <p>Hari ketiga</p> </div>	
	<div style="border: 1px solid black; padding: 10px; margin: 5px;"> <p>Hari kedua</p> </div>	

16. Tuliskan 4 cara manusia merawat alam semesta! (poin 8)

a.	b.
c.	d.

KD 3.5 Mengetahui Makna Hari Raya Prapaskah – Pakah bagi Umat Katolik.

17. Gambar berikut yang menunjukkan perayaan Hari Rabu Abu umat Katolik, pada saat masa pandemi corona yaitu



18. Perayaan Hari Rabu Abu umat Katolik ditandai dengan penerimaan
A. abu B. minyak C. air
19. Siska menahan lapar dan haus, artinya Siska sedang
A. berpantang B. berpuasa C. bertobat
20. Orang yang membantu Yesus memanggul salib bernama ... dari Kirene.
A. Simon B. Petrus C. Thomas
21. Yesus disalib di
A. Getzemani B. Golgota C. Yerusalem
22. Saat disalib, Yesus juga dimahkotai
A. emas B. daun C. duri
23. Dulu Okta malas belajar. Sekarang Okta berubah menjadi anak yang rajin belajar.
Contoh tersebut menunjukkan
24. Awal masa Prapaskah bagi umat Katolik ditandai dengan Hari
25. Umat Katolik berpuasa untuk menyambut Hari Raya
26. Yesus rela disalib, karena menebus ... manusia.
27. Golgota disebut juga tempat
28. Di atas kayu salib Yesus tertulis
29. Tuliskan tema Masa Prapaskah tahun 2021!

KD 3.6 Mengetahui sikap – sikap berdoa sebagai ungkapan syukur kepada Allah.

30. Gerakan tangan yang benar saat membuat tanda salib dan mengucapkan “dan Roh Kudus” adalah



31. Pada waktu membuat tanda salib kita memuliakan Allah

A. Bapa

B. Putera

C. Tritunggal



32. Pada gambar tersebut, saat membuat salib kita mengucapkan

A. dalam nama Bapa

B. dan Putera

C. dan Roh Kudus

33. Gambar berikut yang menunjukkan doa bersama yaitu



34. Waktu berdoa sebaiknya kita dengan

A. hati tulus dan singkat

B. singkat dan bercanda

C. sungguh – sungguh dan panjang

35. Umat Katolik berdoa bisa dilakukan secara

A. pribadi

B. berkelompok

C. pribadi dan berkelompok

36. Gambar berikut yang menunjukkan cara berdoa umat Katolik yaitu



37. Umat Katolik membuat tanda salib saat ...

dan ...

doa.



38. Pada gambar tersebut, saat membuat salib kita mengucapkan

39. Bapa, Putera, dan Roh Kudus bagi umat Katolik disebut Allah






40. Gambar tersebut menunjukkan seseorang sedang berdoa secara

41. Berbicara kepada Tuhan disebut
42. Dalam berdoa kita berterima kasih, memohon, dan memuliakan
43. Ada ... macam sikap berdoa umat Katolik yang baik.

KD 4.6 Melakukan sikap berdoa yang baik sebagai ungkapan syukur kepada Allah.

44. Pasangkan gambar yang sesuai dengan sikap berdoanya!

Gambar	Sikap berdoa
	Berdiri dengan tangan terkatup atau tangan terbuka
	Berlutut dengan tangan terkatup
	Duduk dengan tangan terkatup

45. Pasangkan gambar membuat tanda salib berikut secara urut beserta kata yang diucapkan!



Urutan ke-	Gambar	Kita ucapkan
1		
2		
3		
4		

Amin	dan Putera	dan Roh Kudus	Dalam nama Bapa
------	------------	---------------	-----------------

Selamat Mengerjakan

Mengetahui,
Kepala SDLB B Pangudi Luhur


Drs. Bonaventura Subagyo

Jakarta, 6 Mei 2021
Guru Kelas


Y. Sincara Favoury, S.Pd