



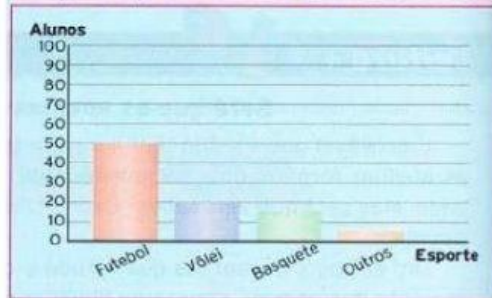
ESCOLA ESTADUAL "PROFESSOR JOAQUIM QUEIROZ"
Atividade de Matemática 5º ano do Ensino Fundamental

Aluno(a): _____ Professora: _____ Data: ____/____/____

TRABALHANDO COM GRÁFICOS

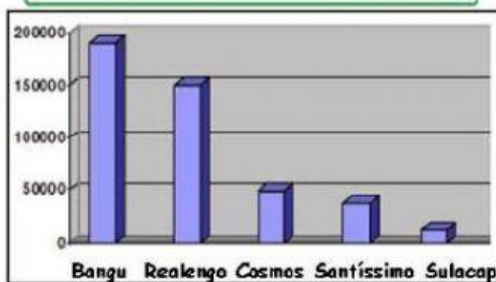
Observe os gráficos com atenção e marque com um X a opção correta:

Esportes preferidos dos alunos de 6º ano



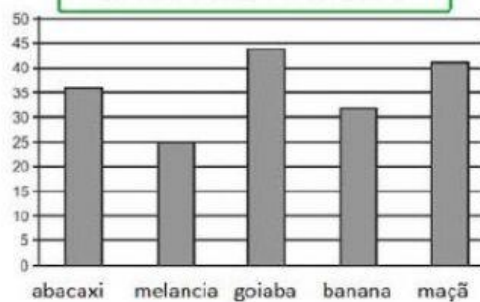
- ☐ O esporte preferido do 6º ano é o vôlei.
- ☐ O futebol recebeu 50 votos.
- ☐ No total votaram 100 alunos.

Número de habitantes por bairro



- ☐ O bairro com mais habitantes é Sulacap.
- ☐ O bairro com menos habitantes é Bangu.
- ☐ Realengo tem 150.000 habitantes.

Frutas vendidas na feira



- ☐ O abacaxi foi a fruta mais consumida.
- ☐ A maçã foi a fruta menos consumida.
- ☐ Foram consumidas 25 melancias.

MORROS DA CIDADE MARAVILHOSA



- ☐ O morro mais alto é o Corcovado.
- ☐ Todos os morros ficam no Rio de Janeiro. O
- ☐ Morro da Urca mede 396 metros.