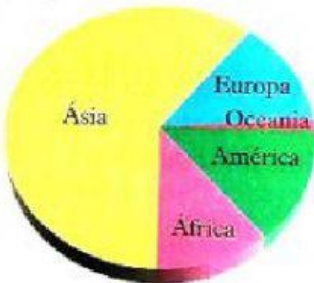


Aluno(a): _____

Professora: _____

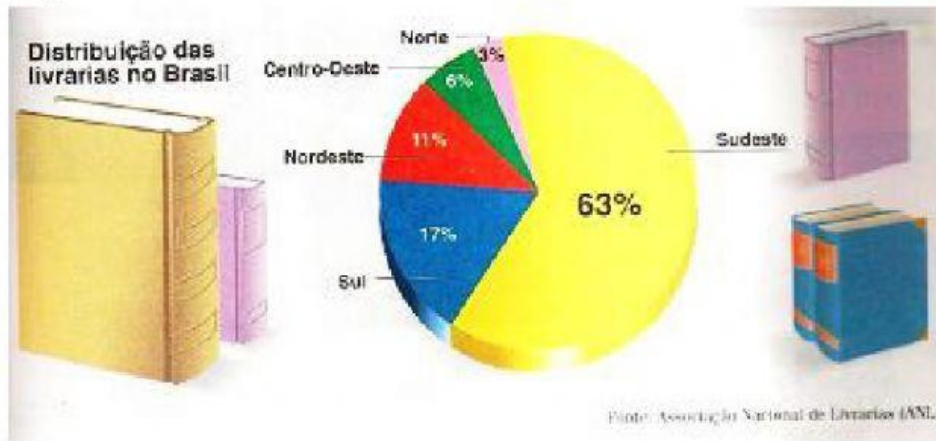
1 -) O gráfico seguinte mostra a distribuição da população mundial. Observando o gráfico responda:



a) Qual o continente mais povoado? _____

b) Qual o continente menos povoado? _____

2 -) Em 1998 havia 1 200 livrarias no Brasil. A distribuição dessas livrarias está representada no gráfico seguinte:



a) Qual a região que tem maior número de livraria? _____

b) Quantos por cento de livraria estão localizadas na região Nordeste? _____

3 -) O prefeito de uma cidade criou um departamento cujo objetivo é oferecer cursos profissionalizantes para moradores. O gráfico a seguir mostra em cada 100 participantes quanto fazem cada um dos cursos oferecidos.



a) Observe o gráfico e responda às questões.

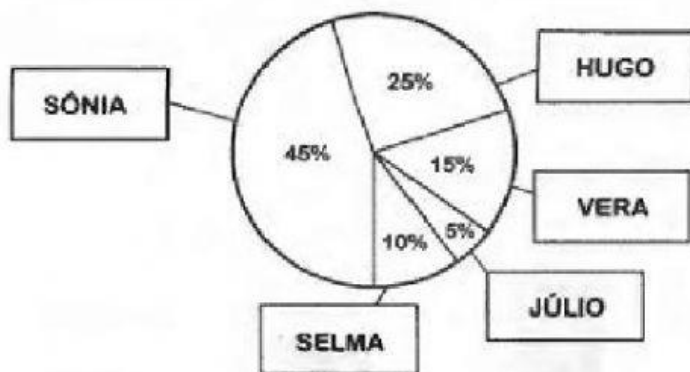
a) Qual é o curso com maior número de participantes?

Em cada 100 participantes, quantos fazem esse curso?

b) Qual é o curso com o menor número de participantes?

Em cada 100 participantes, quantos fazem esse curso?

4 -) O gráfico abaixo mostra o resultado da votação para representante das salas do 5º ano no grêmio de uma escola. No total votaram 120 alunos.



a) Classifique os candidatos pela ordem de votação.

| 1º lugar | 2º lugar | 3º lugar | 4º lugar | 5º lugar |
|----------|----------|----------|----------|----------|
| | | | | |

b) Quem foi eleito representante com a maioria dos votos?