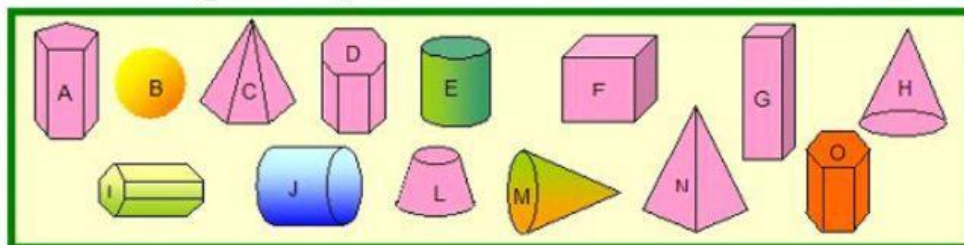


Trabalhando com Geometria



Nome: _____ Professor: _____

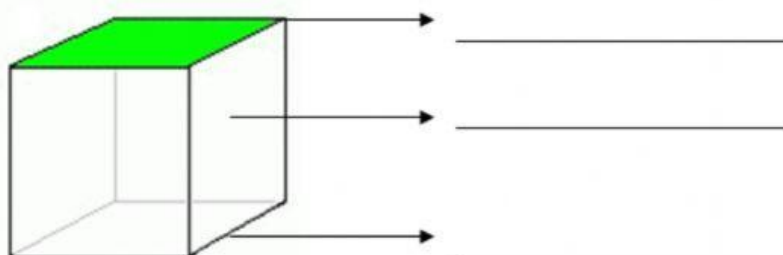
Observe a figura e responda escrevendo as letras:





a. Quais são poliedros?

b. Quais são corpos redondos?

Além das faces, os poliedros têm arestas e vértices. Escreva na linha correta o nome de cada parte no cubo abaixo:



SÓLIDO	NÚMERO DE FACES	NÚMERO DE VÉRTICES	NÚMERO DE ARESTAS
			
			
			

Vamos resolver...

