

LE FRAZIONI

COSA è UNA FRAZIONE
SCHOOLTOONCHANNEL

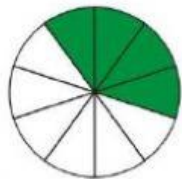
Scrivi la frazione che rappresenta la parte colorata:



$\frac{\quad}{3}$



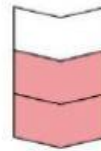
$\frac{\quad}{\quad}$



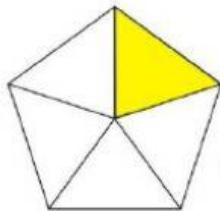
$\frac{\quad}{10}$



$\frac{\quad}{\quad}$




$\frac{\quad}{\quad}$



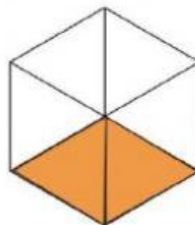
$\frac{\quad}{\quad}$




$\frac{\quad}{7}$



$\frac{\quad}{\quad}$



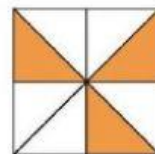
$\frac{\quad}{\quad}$



$\frac{\quad}{\quad}$



$\frac{\quad}{\quad}$



$\frac{\quad}{\quad}$

- 1) L'unità frazionaria $\frac{1}{3}$ rappresenta:
 - a. l'intero diviso in 3 parti
 - b. una delle 3 parti in cui è diviso l'intero
 - c. tutte le parti in cui dividiamo l'intero
 - d. nessuna delle precedenti
- 2) Rispetto al totale dei giorni della settimana, quale frazione corrisponde al sabato?
 - a. $\frac{1}{8}$
 - b. $\frac{2}{7}$
 - c. $\frac{1}{7}$
- 4) Indica quale delle seguenti affermazioni è sbagliata:
 nella frazione $\frac{16}{25}$:
 - a. il numero 16 rappresenta il numeratore
 - b. il numero 25 rappresenta il denominatore
 - c. la linea che si trova fra i due numeri prende il nome di linea di divisione
- 5) Completa la seguente tabella:

frazione	numeratore	denominatore	Unità frazionaria
$\frac{3}{7}$			$\frac{1}{7}$
	5		$\frac{1}{8}$
	14	17	

- 6) Quale unità frazionaria rappresenta la parte colorata dei seguenti segmenti?

