

HISTÓRIA – Identidade do povo brasileiro

O povo brasileiro é formado, principalmente, por três etnias:

- **índios:** os primeiros habitantes do Brasil;
- **brancos:** os europeus, principalmente os portugueses;
- **negros:** africanos trazidos para trabalhar como escravos.

O povo **brasileiro** é a união de vários povos.


O primeiro povo a habitar as terras brasileiras foram os **índios**.


Em 1500 chegaram os **portugueses**, depois os **espanhóis**, que constituíram os **brancos** na formação do nosso povo.

Com a colonização do Brasil, vieram os **africanos**. Eram os **negros**. Muito mais tarde, juntaram-se a esse povo os imigrantes **italianos**, **alemães**, **japoneses** e muitos outros, que ajudaram a construir o nosso país.

Encontre no caça-palavras as palavras em destaque no texto



 Complete a cruzadinha, buscando as respostas no texto:



- (A) Os africanos foram trazidos para o Brasil para serem...
- (B) Os primeiros habitantes do Brasil.
- (C) Vieram do Japão e colaboraram para a formação do povo brasileiro.
- (D) Os primeiros representantes da população branca no Brasil.

GEOGRAFIA – Movimentos migratórios do Brasil

MIGRAÇÕES

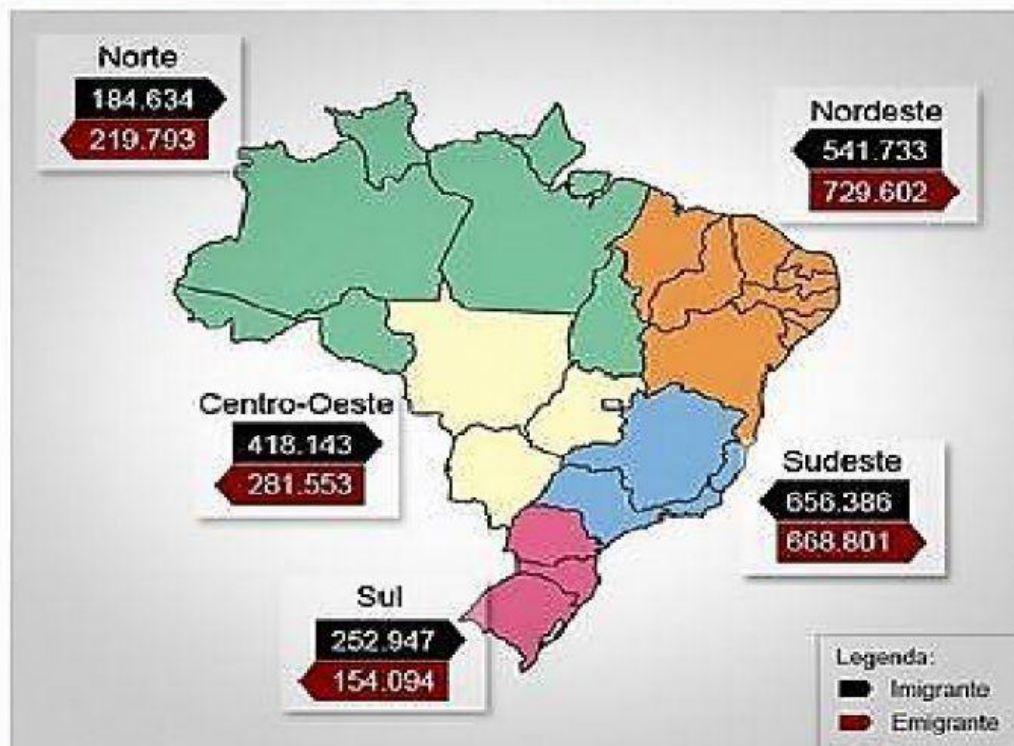
➤ **Definição: saída populacional de uma área para outra**

- Emigração ➡ saída
- Imigração ➡ Entrada

• **Interna** – dentro do próprio país

• **Externa** – de um país para outro

IMIGRANTES E EMIGRANTES NO BRASIL EM 2009



Fonte: IBGE, Pesquisa Nacional por Amostra de Domicílios 2009

Observe o mapa do Brasil e escreva:

1- As regiões cujo número de imigrantes foi maior que o de emigrante.

2- As regiões cujo número de emigrantes foi maior que o de imigrantes.

3- para cada região, apontar a diferença entre o número de pessoas que saíram da região (emigrantes) e o número de pessoas que entraram na região (imigrante).

Norte _____ Nordeste _____ sudeste _____
Centro-oeste _____ Sul _____.

4- A partir da diferença anotada, em qual região houve maior retenção de imigrantes, ou seja, em qual região houve maior entrada de pessoas (imigrantes) em relação ao número de saída de pessoas (emigrantes)?
