

**PENILAIAN HARIAN MATEMATIKA  
KELAS V SEMESTER 2 SEKOLAH DASAR  
KURIKULUM 2013**

---

Pelajaran : Pengumpulan dan Penyajian Data

Sub Pelajaran : Penyajian Data

---

***I. Pilihlah salah satu jawaban yang paling benar dengan cara memberi klik pada huruf A, B, C, atau D.***

1. Di bawah ini adalah macam-macam sajian data, kecuali ....
- A. table
  - B. pictogram
  - C. diagram
  - D. sketsa

Perhatikan table di bawah ini untuk menjawab soal nomor 2 – 5 !

Tinggi Badan (dalam cm)	Banyak Siswa
149	11
150	6
153	10
155	3
156	5
158	7

2. Jumlah siswa seluruhnya adalah ....
- A. 39
  - B. 40
  - C. 41
  - D. 42
3. Jumlah siswa yang tingginya kurang dari 153 adalah ....
- A. 10 anak
  - B. 17 anak
  - C. 27 anak
  - D. 15 anak
4. Selisih tinggi anak yang paling tinggi dan paling pendek adalah ....
- A. 8 cm
  - B. 9 cm
  - C. 10 cm
  - D. 11 cm
5. Sajian data yang diwakili oleh gambar adalah ....
- A. daftar
  - B. tabel

- C pictogram
- D. diagram

6. Perhatikan tabel di bawah ini!

**Data Jumlah Siswa  
SDN Perak Utara Tahun 2019**

Kelas	Jumlah
1	30
2	35
3	28
4	39
5	38
6	30

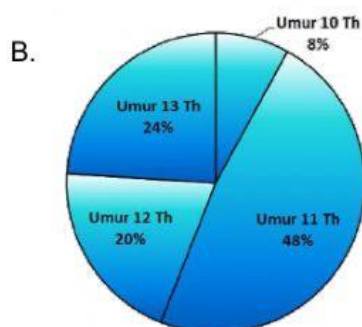
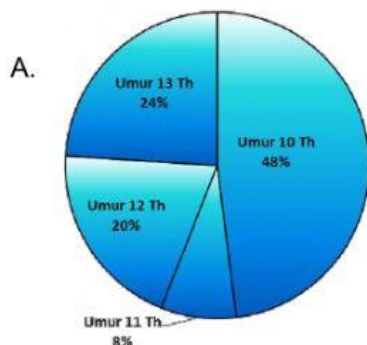
Dari tabel di atas kelas yang memiliki murid terbanyak adalah....

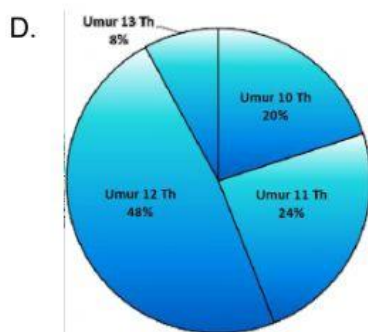
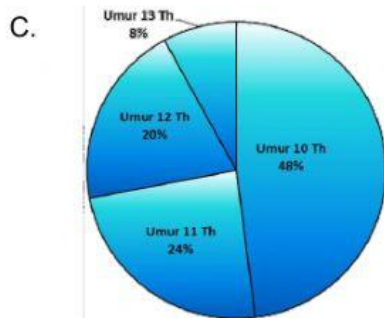
- A. Kelas 2
- B. Kelas 3
- C. Kelas 4
- D. Kelas 5

7. Perhatikan data usia siswa kelas 5 SDN Pakel berikut!

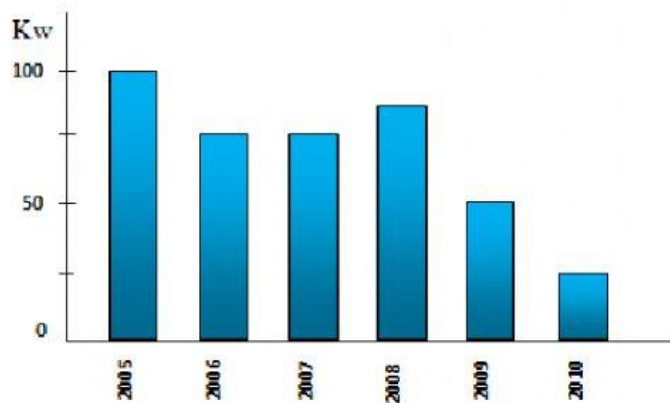
Umur	Jumlah Siswa
10	2
11	12
12	5
13	6

Diagram lingkaran yang sesuai data di atas adalah....



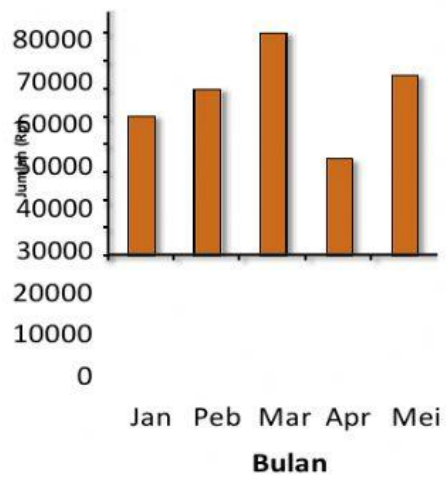


Perhatikan diagram di bawah ini untuk menjawab soal nomor 8 dan 9!



8. Diagram di atas menunjukkan data hasil panen padi Desa Sukamakmur selama 6 tahun. Dari data di atas hasil panen terbanyak terjadi pada tahun...
  - A. 2008
  - B. 2007
  - C. 2006
  - D. 2005
9. Pada tahun 2007 hasil panen padi Desa Sukamakmur sebanyak ...
  - A. 100 kuintal
  - B. 75 kuintal
  - C. 50 kuintal
  - D. 25 kuintal

10. Diagram di bawah ini menunjukkan tabungan Siti.



Tabungan Siti yang paling sedikit terjadi pada bulan ....

- A. Pebruari
- B. Maret
- C. April
- D. Mei