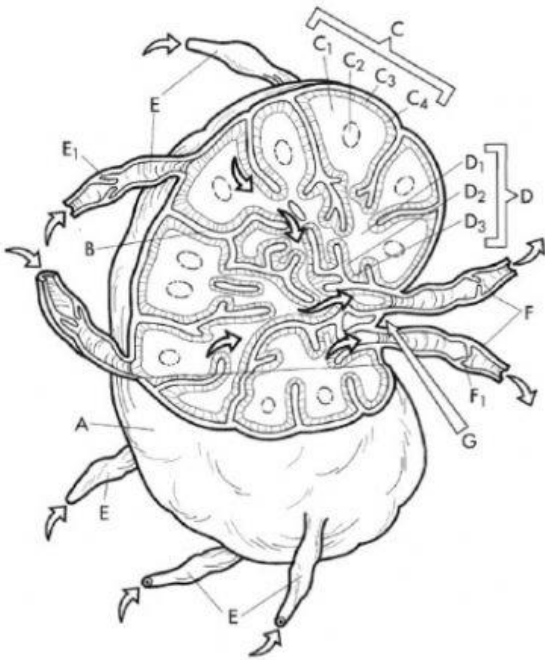
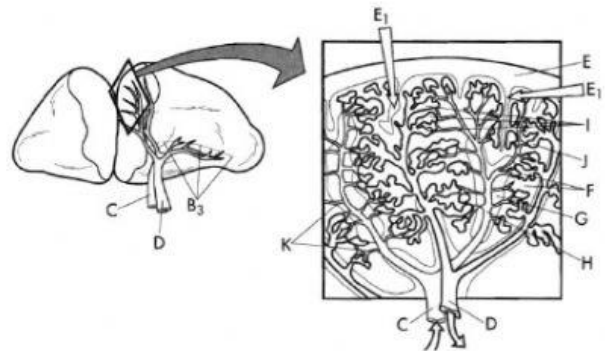
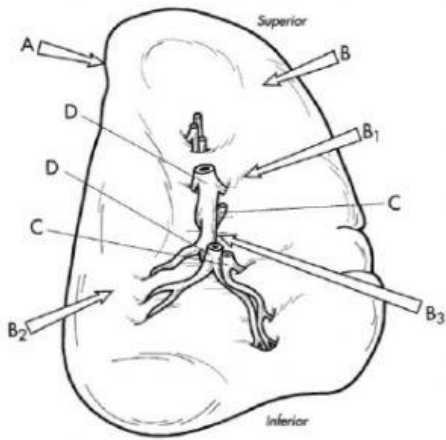


## Анатомія лімфатичної системи

Впишіть назви анатомічних утворень у відповідні комірки



A	E
B	E1
C	F
C1	F1
C4	G
D	



A	D	I
B	E	J
B1	E1	
B2	F	
B3	G	
C	H	