



Multiplicaciones


1. Resuelve las cuentas:

UM	C	D	U
	5	8	9
		X	7


UM	C	D	U
	7	6	3
		X	8

UM	C	D	U
1	2	8	9
		X	3


2. Escribir dos multiplicaciones y calcular la cantidad total en cada caso.

  x  =

x  =

  x  =

x  =

  x  =

x  =



3. Unir con flechas según corresponda:

$13 + 13 + 13 + 13 + 13 =$

$5 + 5 + 5 + 5 =$

$127 + 127$

$8 + 8 + 8 + 8 + 8 + 8 =$

$8 \times 6$

$127 \times 2$

$13 \times 5$

$5 \times 4$