

LATIHAN SOAL MATEMATIKA KELAS 2
TEMA 5 (BERAT BENDA)





Namaku : _____

Kelas : _____

No Absen : _____

A. Jodohkan dengan menarik garis (Alat yang tepat untuk mengukur panjang benda)

1	
2	
3	
4	

B. Jodohkan dengan menarik garis

5	2 m
6	400 cm + 300 cm
7	5 m – 2 m
8	400 cm

7 m
4m
300 cm
200 cm

C. Isilah dengan tepat!

9. Beni mempunyai tali dengan panjang 500 cm, kemudian dipotong 1 m.

Panjang tali Beni sekarang adalah _____ cm

10. Panjang pita merah 2m. Panjang pita biru 200 cm.

Panjang pita merah dan biru jika digabung adalah _____ m