

ESCOLA CLASSE 08 DE BRAZLÂNDIA

ALUNO(A): _____

DATA: ____/____/____

ATIVIDADE

1- CIRCULE AS VOGAIS DOS NOMES DOS MEIOS DE COMUNICAÇÃO:

	TELEFONE
	LIVRO
	CARTA
	CELULAR
	RÁDIO
	COMPUTADOR



REVISTAS

2- COMPLETE OS DESENHOS ATÉ COMPLETAREM AS QUANTIDADES PEDIDAS:



	8
---	---



	10
---	----



	15
---	----



	12
---	----



3 REPRESENTAR AS QUANTIDADES COM DESENHOS E DEPOIS FAÇA AS ADIÇÕES:



		
+		


		
+		



		
+		

		
+		

		
+		

		
+		

		
+		

		
+		