


 INDIQUE SE O NUMERAL É PAR OU ÍMPAR.

FORME PARES COM OS ELEMENTOS PARA DESCOBRIR.




3



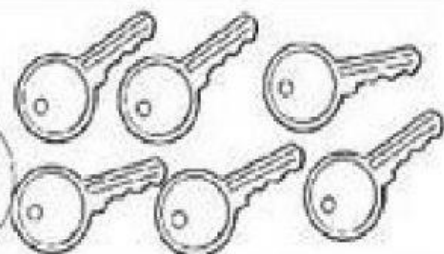
PAR  ÍMPAR

4



PAR  ÍMPAR

6




PAR  ÍMPAR

8




PAR  ÍMPAR

9





PAR  ÍMPAR

5





PAR  ÍMPAR



1) CONTE OS DEDOS, ESCREVA O RESULTADO E MARQUE SE É PAR OU ÍMPAR:

 RESULTADO: \_\_\_\_\_  
PAR  OU  ÍMPAR 



---

 RESULTADO: \_\_\_\_\_  
PAR  OU  ÍMPAR 



---

 RESULTADO: \_\_\_\_\_  
PAR  OU  ÍMPAR 



---

 RESULTADO: \_\_\_\_\_  
PAR  OU  ÍMPAR 


---

 RESULTADO: \_\_\_\_\_  
PAR  OU  ÍMPAR 

---

 RESULTADO: \_\_\_\_\_  
PAR  OU  ÍMPAR 

---

 RESULTADO: \_\_\_\_\_  
PAR  OU  ÍMPAR 