

1. Namakan alatn GKT yang sesuai digunakan untuk membina bulatan dengan tepat.



Jawapan :

2. Namakan alatn GKT yang digunakan sebagai tempat alas untuk melukis dengan permukaan yang rata.

Jawapan :



3. Apakah nama singkatan bagi institusi kepiawaian berikut:



**Institut Piawaian dan Penyelidikan Perindustrian Malaysia**

Jawapan :

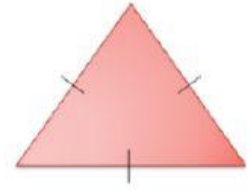


**Pertubuhan Keptawaian Antarabangsa**

Jawapan :

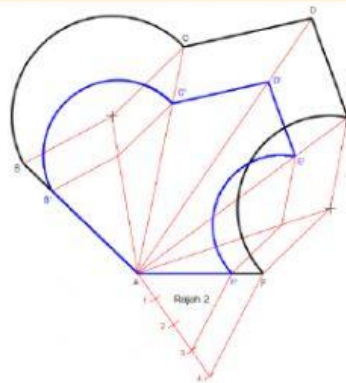
4. Nyatakan jenis segi tiga berikut:





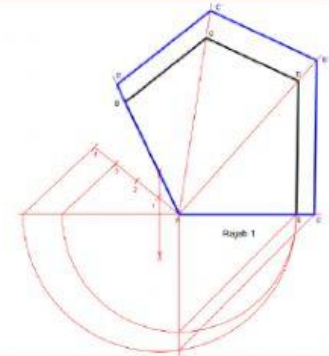

5. Nyatakan kaedah yang digunakan untuk membina pembesaran Rajah 2;

Jawapan :



6. Nyatakan kaedah yang digunakan untuk membina pembesaran Rajah 1;

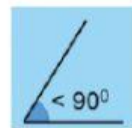
Jawapan :

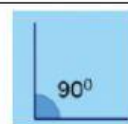


7. Nyatakan bidang kerjaya berdasarkan tugas.

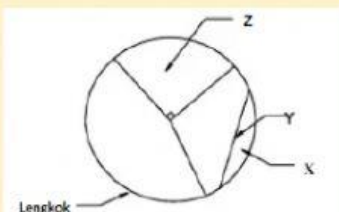
Merangka idea pembinaan bangunan	
Menyediakan lukisan teknikal	
Membuat reka bentuk	
Menyediakan idea dan konsep awal rekabentuk	

8. Nyatakan jenis sudut berikut;






9. Rajah menunjukkan sebuah bulatan. Namakan istilah yang betul bagi X, Y dan Z.



X : \_\_\_\_\_

Y : \_\_\_\_\_

Z : \_\_\_\_\_

10. Namakan poligon mengikut bilangan sisinya.

Bilangan Sisi	Nama Poligon
6	
8	Oktagon
9	
10	