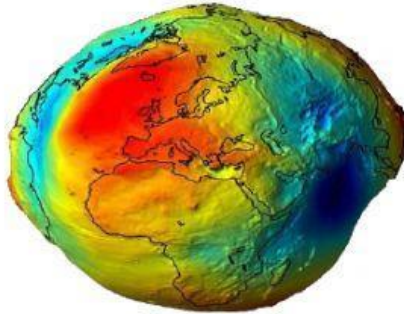


DIMENSIONES DE LA TIERRA

Nombre completo _____

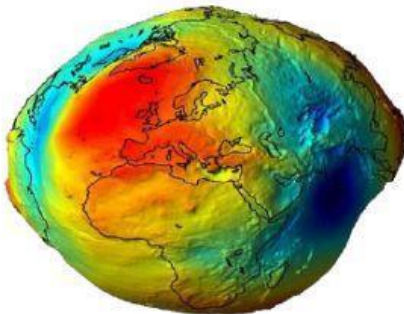
1. Indica cuál de estas formas no es una forma aceptada por la ciencia.



2. Une según corresponda a forma



Esta forma se presenta debido a los Relieves que presente la tierra.



Es una de las formas perfectas de la tierra.

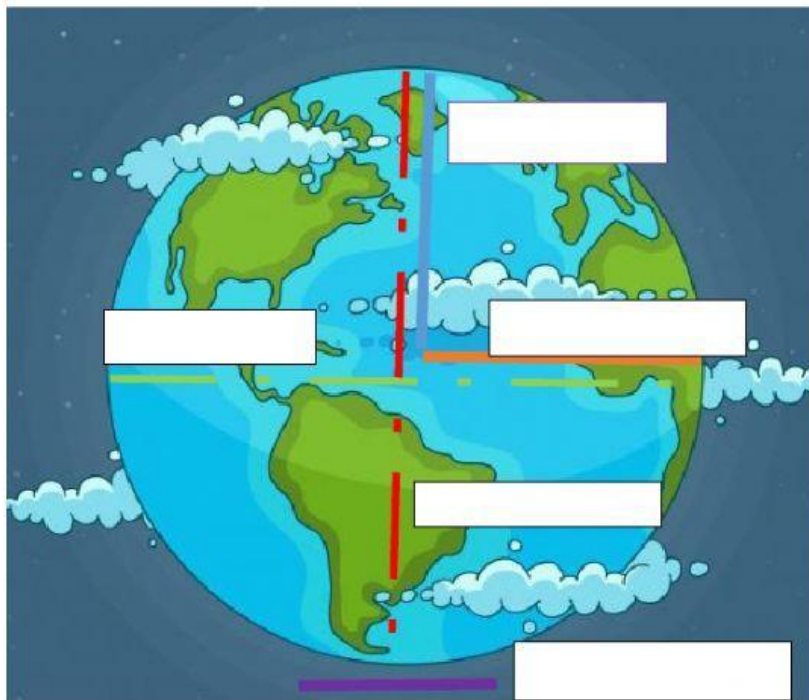


Esta forma se presenta debido a los movimientos que realiza la tierra, la rotación permite que sus polos se achaten.

3. Indica falso o verdadero según corresponda.

- La tierra tiene tan solo una forma comprobada. ☐
- La tierra debido a sus movimientos genera una forma esférica ☐
- La tierra tiene la superficie lisa ya que el relieve de esta no la afecta. ☐
- El geoide NO hace parte de las formas de la tierra. ☐

4. Ubica las dimensiones de la tierra según corresponda.



Radio del Ecuador

Longitud del Ecuador

Radió polar

Superficie

Lonaitud del Meridiano

5. Indica según corresponda.

- Mide desde el centro de la tierra hacia los extremos norte y sur
- Mide desde el polo norte hasta el polo sur
- Mide desde el centro de la tierra hacia los extremos oeste y este.
- Mide la tierra desde los extremos este y oeste
- La dimensión total de tierra es