

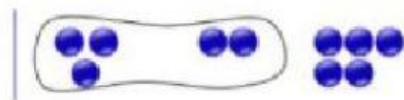
BURUKETAK



---

1- LOTU ZUTABEAK

## GEHIAGO da



biderkatu  
 $2 \times 4 = 8$



batu  
 $3 + 2 = 5$

## GUTXIAGO da



kendu  
 $5 - 2 = 3$



zatiu  
 $6 : 2 = 3$

## 2- AUKERATU ERAGIKETA EGOKIA

(biderik laburrena aukeratu behar duzu)

Kamioi batean 46 sagar-kutxa, 34 madari-kutxa eta 52 laranja-kutxa daude. Zenbat fruta-kutxa daude guztira?



batuketa    kenketa    biderketa    zatiketa

Apalategi batean 134 ur botila zeuden, eta 68 kendu ditugu. Zenbat ur botila geratzen dira?



batuketa    kenketa    biderketa    zatiketa

Yogur batek bi euro balio ditu.  
Zenbat balio dute sei yogurrek?



batuketa   kenketa   biderketa   zatiketa

Ikas eta Ramonen artean hurrengo 10 kanika hauek banatuko dira:



batuketa   kenketa   biderketa   zatiketa


Zuhaitz batek 946 hosto zituen. Udazkenean 144 erori zaizkio. Zenbat hosto ditu orain?



946 hosto



144 hosto



batuketa   kenketa   biderketa   zatiketa

Baserri batean 949 oiho zeuden eta beste 315 oiho ekarri zituzten. Zenbat oiho daude orain baserrian?



949 oiho



315 oiho




batuketa   kenketa   biderketa   zatiketa

Apai batean zortzi liburu daude.  
Zenbat liburu daude bi apaletan?




batuketa   kenketa   biderketa   zatiketa

Baso batean 1.260 zuhaitz zeuden, eta beste 207 zuhaitz landatu dira. Zenbat zuhaitz daude orain basoan?



batuketa   kenketa   biderketa   zatiketa

Orain, 8 sagar bi sartuta ten batetik 4 dugu:



batuketa kenketa biderketa zatiketa

Jostailu-dendan 175 hartz zeuden. Gaur 62 hartz saldu dituzte. Zenbat hartz geratzen dira?



batuketa kenketa biderketa zatiketa




Banatu hurrengo pilota hauak 6 poltselari:



batuketa   kenketa   biderketa   zatiketa

Etxean astero 10 litro esne edaten baditugu,  
zenbat litro edango ditugu 6 astetan?



batuketa   kenketa   biderketa   zatiketa