



Evaluación Historia, Geografía y Cs. Sociales

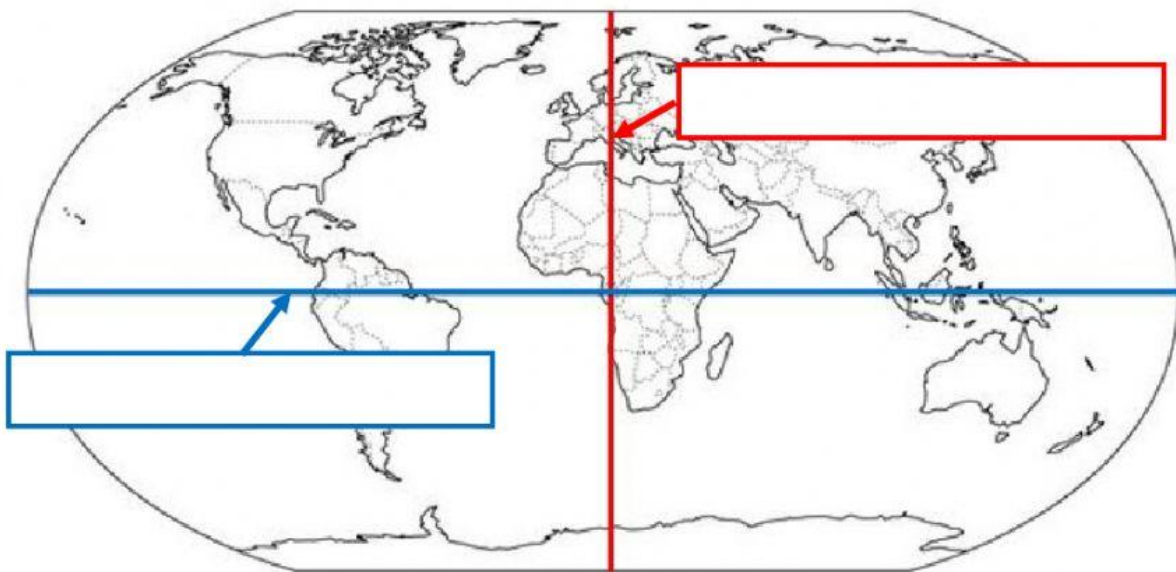
Los continentes y océanos.

Objetivo a evaluar:

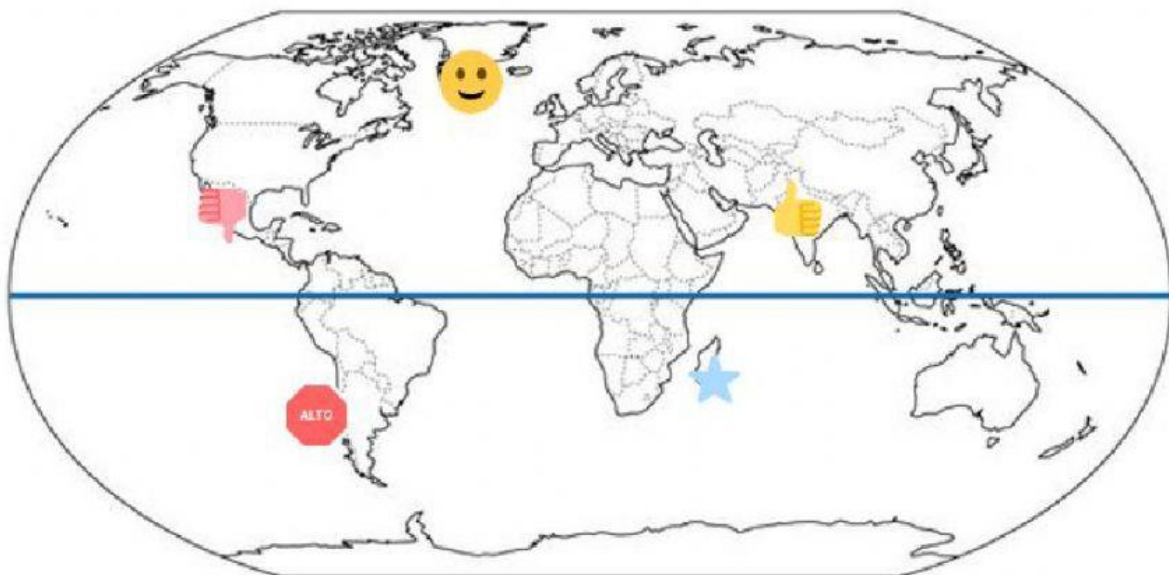
OA 7: Distinguir hemisferios, principales líneas de referencia, continentes y océanos del planeta en mapas.

ITEM I. ROTULA LINEAS DE REFERENCIA. Observa el mapamundi y escribe el nombre de la línea de referencia que esta indicando la fecha. (4 puntos)




Línea del Ecuador – Meridiano de Greenwich





ITEM II. DISTINGUE HEMISFERIOS. Observa el mapamundi y reconoce el hemisferio donde se ubica cada símbolo. (4 puntos)



Observa el mapamundi y teniendo en cuenta la línea azul, reconoce el hemisferio donde se ubica cada símbolo.

	Hemisferio
	Hemisferio
	Hemisferio
	Hemisferio

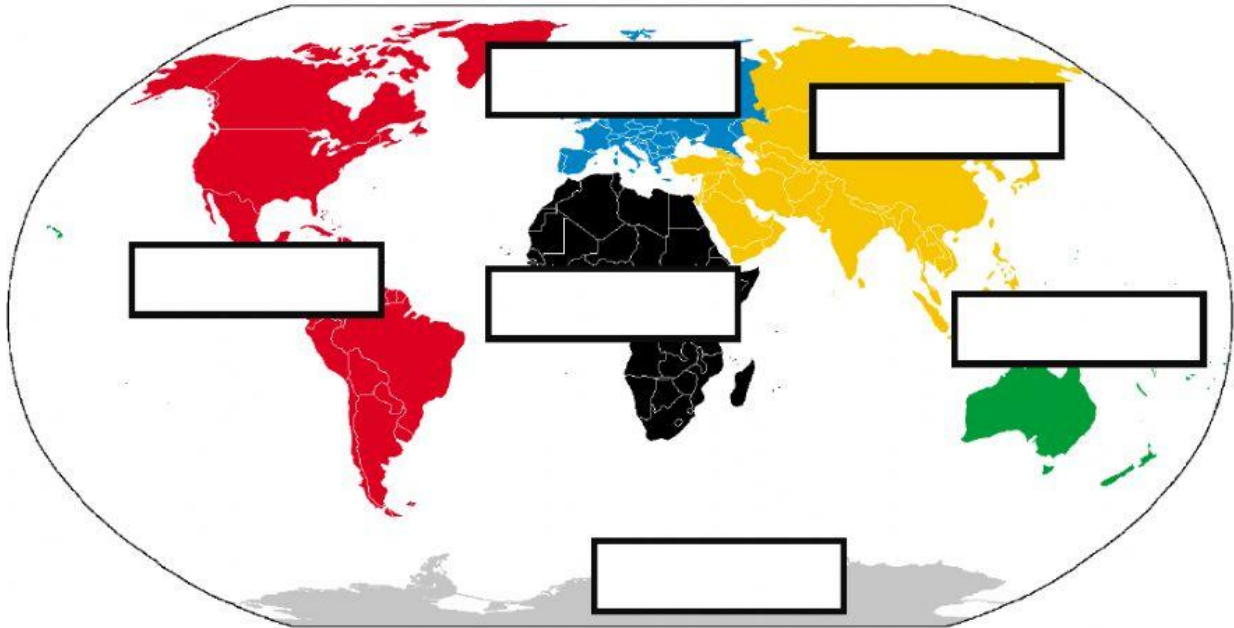
ITEM III. DISTINGUE FORMAS DE REPRESENTAR LA TIERRA. Completa el siguiente cuadro con los solicitado.
(6 puntos)

	¿Qué es? Nombre de las imágenes	Menciona 2 características para cada uno.
		
		

ITEM IV. ROTULA LOS CONTINENTES. Observa el mapamundi y reconoce los continentes. Para ello debes tomar y arrastrar el nombre al lugar que corresponde. (10 puntos)

OCEANÍA ANTARTICA ASIA

AMÉRICA AFRICA EUROPA



ITEM V. ALTERNATIVAS. Olee cada pregunta y selecciona la alternativa que consideres correcta (12 puntos)

1. ¿En qué continente se ubica Chile?

- A. Oceanía.
- B. América.
- C. África.

2. Es el continente más grande y poblado, se ubica al Este de Europa ¿De qué continente se trata?

- A. Europa.
- B. América.
- C. Asia.

3. Es el continente blanco, es considerado una de las mayores reservas de agua dulce, se ubica al sur del Océano Austral ¿De qué continente se trata?

- A. Oceanía.
- B. Antártica.
- C. América.

4. Es el continente más pequeño, en este se ubica Australia y se encuentra al sur de Asia ¿De qué continente se trata?

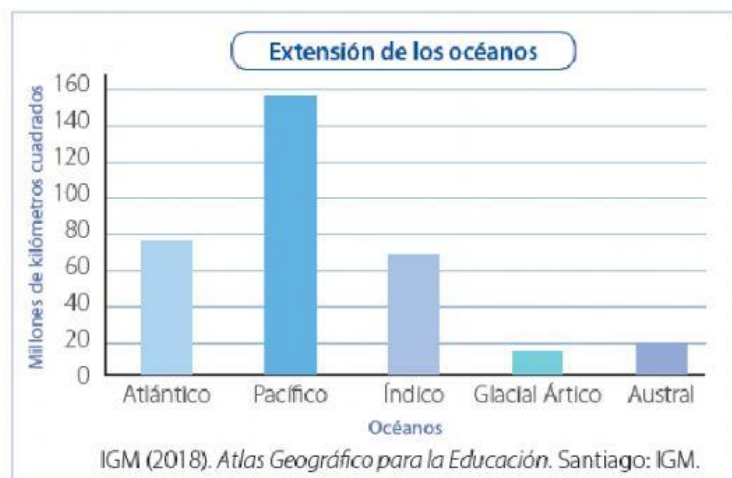
- A. Oceanía.
- B. Europa.
- C. Antártica.

5. Este continente se ubica al sur de Europa y en este se encuentra Egipto y sus famosas pirámides. ¿De qué continente se trata?

- A. Oceanía.
- B. África.
- C. Antártica.




























6. Observa el siguiente gráfico y responde:
¿Cuál es el océano más grande del mundo?

- A. Océano Indico.
- B. Océano Atlántico.
- C. Océano Pacífico.



AUTOEVALUA ¿CÓMO FUE TU DESEMPEÑO?

Marca la opción que consideres correcta, considerando las últimas cuatro semanas.

Criterios	 Si	 Más o menos	 No
Soy capaz de reconocer las principales formas de representar nuestro planeta y las principales líneas de referencia de la tierra.			
Soy capaz de ubicar y rotular en mapa los continentes de la tierra.			
Soy capaz de reconocer o caracterizar de forma general los continentes y océanos.			
Asistí a clases virtuales y/o justifiqué mis inasistencias con mis profesora jefe o de Historia.			
Utilicé correctamente los recursos dispuestos en la sala virtual (cámara encendida, micrófono, chat)			
Me esforcé por prestar atención, participar y realizar las actividades en las clases virtuales.			
Repasé los contenidos cuando no los comprendí y antes de la evaluación formativa final.			
Trabajé de manera autónoma en mis actividades y solicite ayuda solo cuando la necesite.			

Comentario que deseas agregar de la asignatura

¡BUEN TRABAJO!