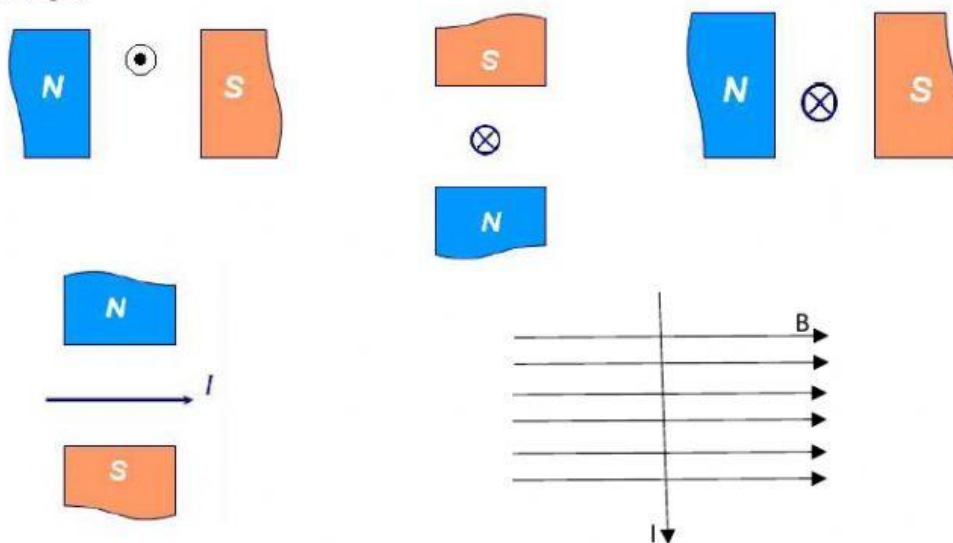





1. В магнитное поле внесен проводник с током. Определите направление силы Ампера.



2. В однородное магнитное поле внесен проводник с током.



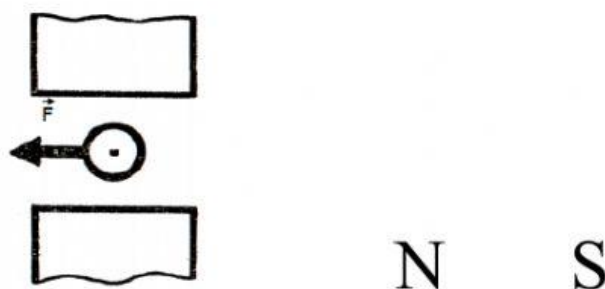
Определите направление тока в проводнике.

3. В однородное магнитное поле внесен проводник с током.



Изобразите линии магнитной индукции.

4. В однородное магнитное поле внесен проводник с током.



Определите полюсы магнита.