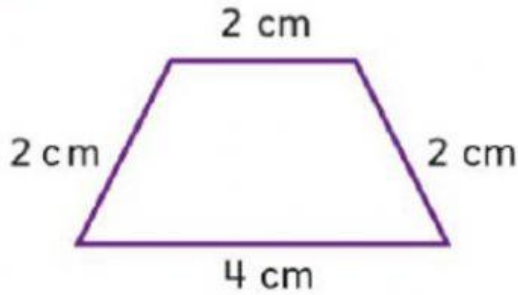




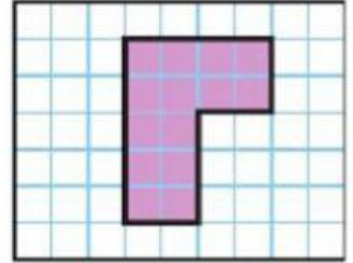
أوجد مُحيطَ كُلِّ شَكْلِ.

3.



المُحيطُ هُوَ \_\_\_\_\_ سنتيمترًا.

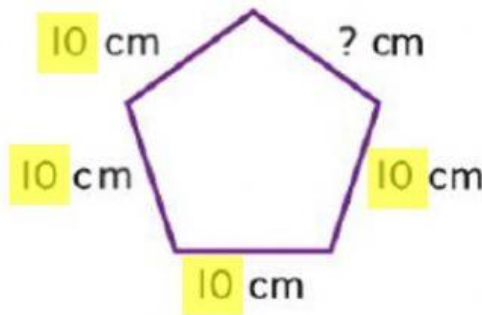
4.



المُحيطُ هُوَ \_\_\_\_\_ مترًا.

**الجبرُ** أوجد طولَ الصُّلَعِ المَجْهولِ بِكُلِّ شَكْلِ.  
مُحيطُ كُلِّ شَكْلِ هُوَ 50 cm.

9.



50

- 40

المَجْهولُ هُوَ \_\_\_\_\_ سنتيمترًا.

